

Wir stellen uns vor.

Der GG- Bereich in Zahlen und Daten.

## Klasse

	Frösche (Frau Wende)	Papageien (Frau Bannach)
Antworten		
Gesamt	7	5

## Frösche oder Papageien

1. Wie viele Schüler sind bei den Fröschen?

7

2. Wie viele Schüler sind bei den Papageien?

5


3. Gibt es mehr Frösche oder mehr Papageien?

Mehr Frösche

4. Wie viele Schüler sind es insgesamt?

12 Schüler insgesamt

Unsere Klassen



# Junge oder Mädchen

	Junge	Mädchen
Antworten		
Gesamt	6	6

## Jungen und Mädchen

1. Wie viele Jungen gibt es?

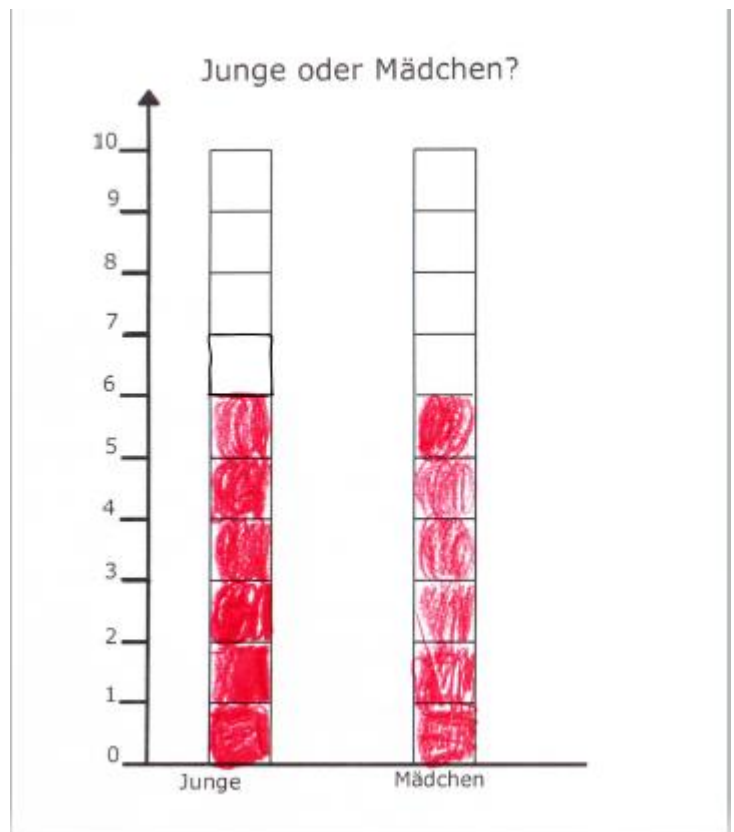
Es sind 6 Jungen

2. Wie viele Mädchen gibt es?

Es sind 6 Mädchen

3. Gibt es mehr Jungen oder mehr Mädchen?

Es sind gleich viele



# Blind

	Ja	Nein
Antworten		
Gesamt	4	8

## Blind oder nicht blind

1. Wie viele Schüler sind blind?


Es sind 4 schülerblind

2. Wie viele Schüler sind nicht blind?

Es sind 8 schüler

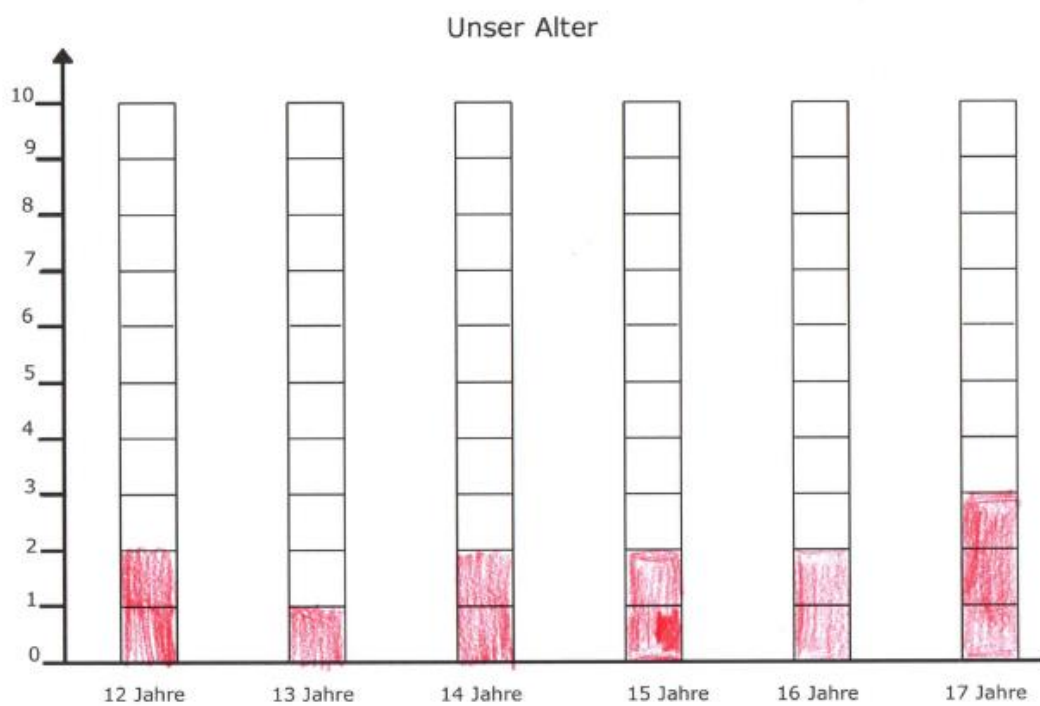
3. Gibt es mehr blinde Schüler oder mehr nicht blinde Schüler?

Es sind 8 schüler blinde



# Alter

	12	13	14	15	16	17
Antworten	11	1	11	11	11	11
Gesamt	2	1	2	2	2	3



## Unser Alter

1. Wie viele Schüler sind 14 Jahre alt?

Es sind 2 Schüler 14

2. Wie viele Schüler sind 16 Jahre alt?

Es sind 2 Schüler 16

3. Wie alt sind die meisten Schüler?

Es sind 3 Schüler 17

4. Wie alt sind die wenigsten Schüler?

Ein Schüler ist 13

# Sprache

	Deutsch	Polnisch	Türkisch	Etwas anderes
Antworten				
Gesamt	10	2	3	1

## Diese Sprachen sprechen wir

1. Wie viele Schüler sprechen Deutsch?

10

2. Wie viele Schüler sprechen Polnisch?

2

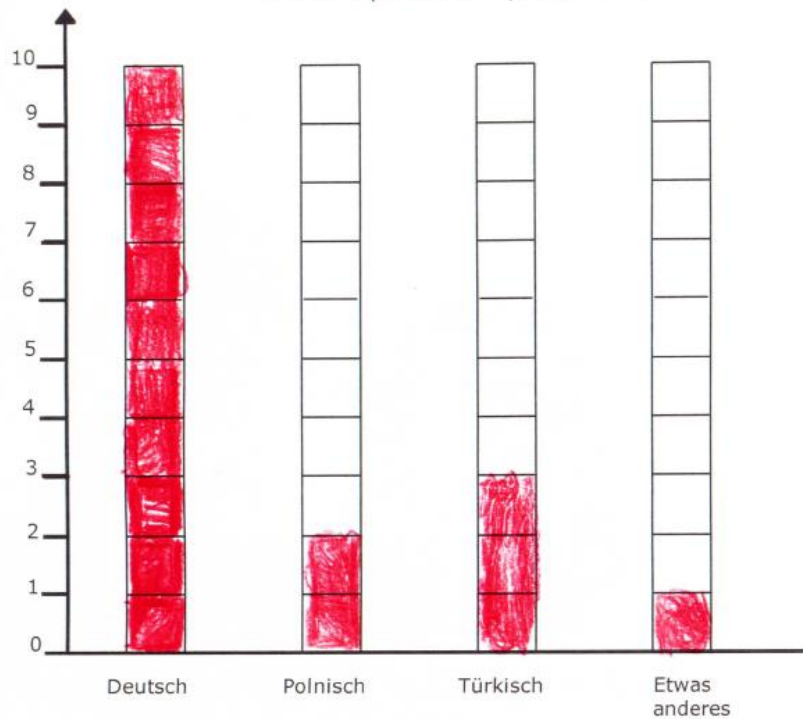
3. Welche Sprache sprechen die meisten Schüler?

Deutsch

4. Welche Sprache sprechen die wenigsten Schüler?

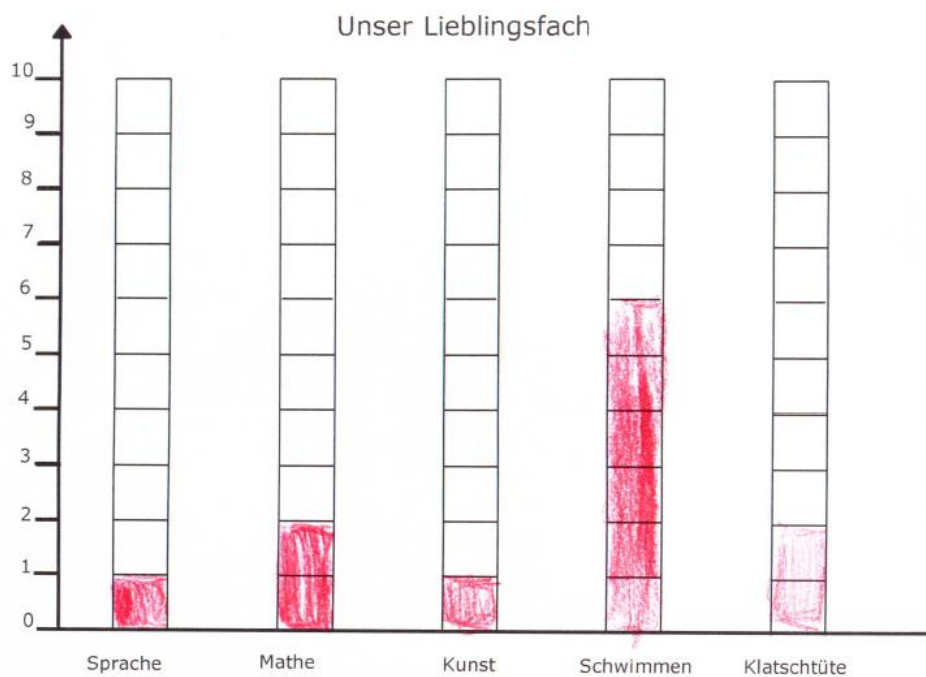
Etwas anderes

Diese Sprachen sprechen wir



# Lieblingsfach

	Sprache	Mathe	Kunst	Schwimmen	Klatschtüte
Antworten	1	2	1	6	2
Gesamt	1	2	1	6	2



## Unser Lieblingsfach

1. Wie viele Schüler haben als Lieblingsfach Mathe?

2

2. Wie viele Schüler haben als Lieblingsfach Klatschtüte?

2

3. Welches Fach mögen die meisten Schüler?

Schwimmen 6

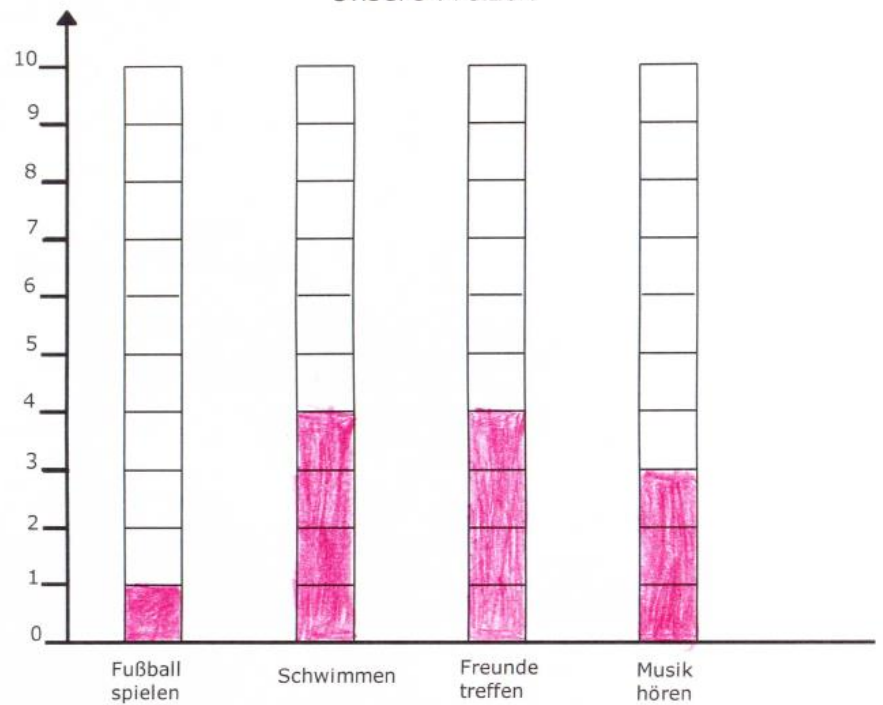
4. Welches Fach mögen die wenigsten Schüler?

Sprache 1 - Kunst 1

# Freizeit

	Fußball spielen	Schwimmen	Freunde treffen	Musik hören
Antworten	I	IIII	IIII	III
Gesamt	1	4	4	3

Unsere Freizeit



## Unsere Freizeit

1. Wie viele Schüler treffen sich gerne mit Freunden?

4

2. Wie viele Schüler hören gerne Musik?

3

3. Welche Freizeitmöglichkeit mögen die meisten Schüler?

Schwimmen 4, Freundes treffen 4

4. Welche Freizeitmöglichkeit mögen die wenigsten Schüler?

Fußballspiel 1